






Mesurer le périmètre d'un polygone

① Quel est le périmètre de ces trois polygones réguliers ? un polygone régulier à tous ses côtés de même longueur.

		
Chaque côté de ce triangle mesure 2 cm	Chaque côté de cette étoile mesure 30 mm	Chaque côté de ce pentagone mesure 5 m
Calcul : $2 + 2 + 2 = 6$ Le périmètre du triangle est 6 cm	Calcul : $30 \times 10 = 300$ Le périmètre de l'étoile est 300 mm.	Calcul : 5×5 Le périmètre du pentagone est 25 m.

② Complète le tableau : trouve le périmètre ou la longueur du côté des différents carrés : attention aux unités !

	Carré A	Carré B	Carré C	Carré D
Longueur du côté	3 mm	4 m	5 cm	10 dm
Périmètre	12 mm	16 m	20 cm	40 dm

③ Complète le tableau suivant :

	Rectangle A	Rectangle B	Rectangle C	Rectangle D
Longueur du côté	5 mm	8 cm	12 dm	19 m
Largeur du coté	3 mm	7 cm	10 dm	4 m
Périmètre	16 mm	30 cm	44 dm	46 m

Ce document PDF gratuit à imprimer est issu de la page :

- [Evaluations CE2 Mathématiques : Grandeurs / Mesures Périmètre - PDF à imprimer](#)

Le lien ci-dessous vous permet de télécharger cette évaluation avec un énoncé vierge

- [Evaluation avec le corrigé pour le Ce2 sur mesurer le périmètre d'un polygone - Bilan à imprimer](#)

Découvrez d'autres évaluations en : CE2 Mathématiques : Grandeurs / Mesures Périmètre

- [Mesure de périmètre - Ce2 - Evaluation](#)

Les évaluations des catégories suivantes pourraient également vous intéresser :

- [Evaluations CE2 Mathématiques : Grandeurs / Mesures Angles - PDF à imprimer](#)
- [Evaluations CE2 Mathématiques : Grandeurs / Mesures Contenance, capacité litre - PDF à imprimer](#)
- [Evaluations CE2 Mathématiques : Grandeurs / Mesures Lire l'heure, horloge - PDF à imprimer](#)
- [Evaluations CE2 Mathématiques : Grandeurs / Mesures Longueur cm, m, km - PDF à imprimer](#)
- [Evaluations CE2 Mathématiques : Grandeurs / Mesures Masse g, kg - PDF à imprimer](#)

Besoin d'approfondir en : CE2 Mathématiques : Grandeurs / Mesures Périmètre

- [Leçons CE2 Mathématiques : Grandeurs / Mesures Périmètre](#)
- [Exercices CE2 Mathématiques : Grandeurs / Mesures Périmètre](#)
- [Evaluations / QCM QUIZ CE2 Mathématiques : Grandeurs / Mesures Périmètre](#)
- [Vidéos interactives CE2 Mathématiques : Grandeurs / Mesures Périmètre](#)
- [Affiche de classe CE2 Mathématiques : Grandeurs / Mesures Périmètre](#)