



Géométrie : Construire un angle droit à l'aide d'une équerre

Evaluation

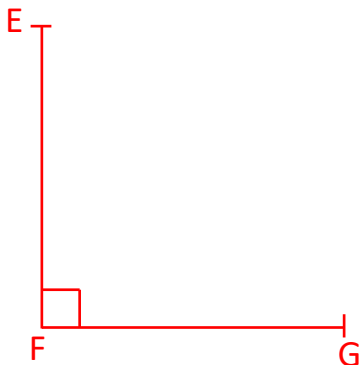
Correction

Evaluation des compétences

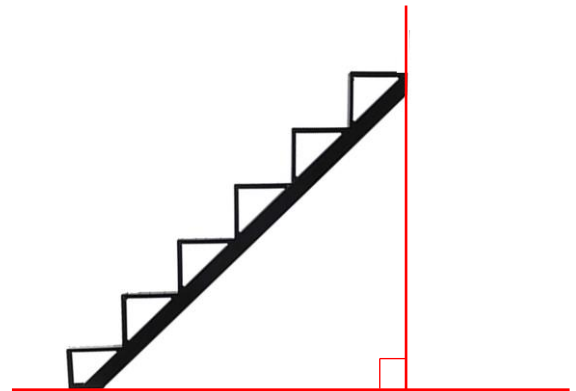
Construire un angle droit à l'aide d'une équerre.

A	EA	NA


- 1 Trace un angle droit EFG rectangle en F dont les côtés mesurent 4 cm.



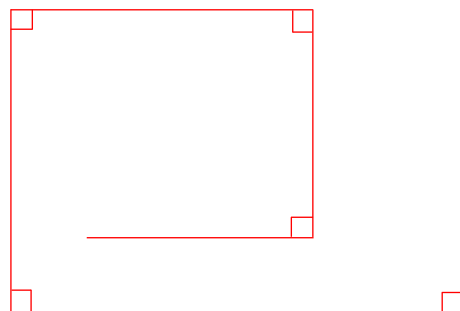
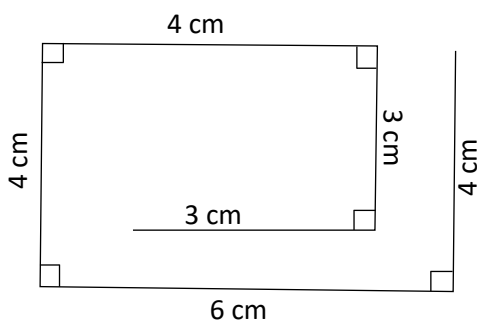
Dessine le sol et le mur contre lesquels s'appuie cet escalier en traçant un angle droit.



- 2 Termine le tracé du rectangle ci-dessous dont les côtés mesurent 9 et 4 cm. N'oublie pas de marquer tous les angles droits de la figure.



- 3 Reproduis la figure dessinée à main levée.



Ce document PDF gratuit à imprimer est issu de la page :

- [Evaluations CM1 Mathématiques : Géométrie Côté, sommet, angle - PDF à imprimer](#)

Le lien ci-dessous vous permet de télécharger cette évaluation avec un énoncé vierge

- [Construire un angle droit à l'aide d'une équerre – Évaluation de géométrie pour le cm1](#)

Découvrez d'autres évaluations en : CM1 Mathématiques : Géométrie Côté, sommet, angle

- [Identifier et classer des angles à l'aide d'une équerre – Évaluation de géométrie pour le cm1](#)
- [Géométrie – Cm1 – Cm2 – Evaluation](#)

Les évaluations des catégories suivantes pourraient également vous intéresser :

- [Evaluations CM1 Mathématiques : Géométrie Agrandissement, réduction - PDF à imprimer](#)
- [Evaluations CM1 Mathématiques : Géométrie Cercle et disque - PDF à imprimer](#)
- [Evaluations CM1 Mathématiques : Géométrie Droites parallèles - PDF à imprimer](#)
- [Evaluations CM1 Mathématiques : Géométrie Droites perpendiculaires - PDF à imprimer](#)
- [Evaluations CM1 Mathématiques : Géométrie Point, droite et segment - PDF à imprimer](#)

Besoin d'approfondir en : CM1 Mathématiques : Géométrie Côté, sommet, angle

- [Leçons CM1 Mathématiques : Géométrie Côté, sommet, angle](#)
- [Exercices CM1 Mathématiques : Géométrie Côté, sommet, angle](#)